

→ Je m'entraîne à résoudre des problèmes.

► Associe chaque problème au bon schéma.

CE2

1. J'accroche 4 guirlandes contenant chacune 16 ampoules.
Combien y a-t-il d'ampoules ?

2. J'achète un kimono de judo à 69€.
Combien me rend le vendeur si je lui donne 100 € ?

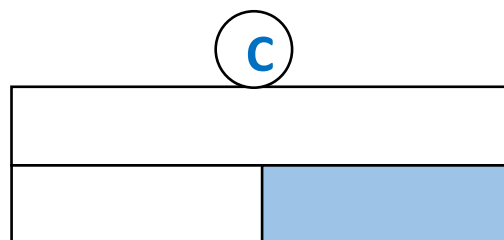
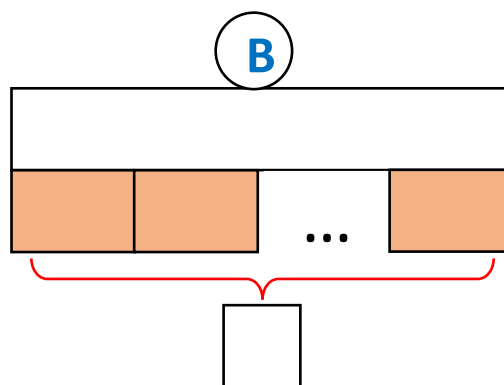
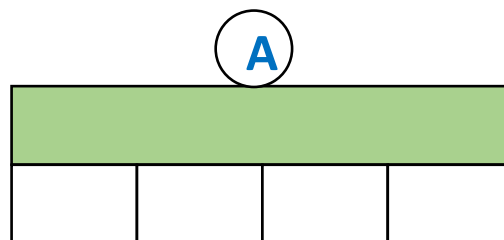
3. Papy range ses 81 timbres dans 9 pochettes.
Combien de timbres y a-t-il dans chaque pochette ?

CM1

1. J'accroche 4 guirlandes contenant chacune 36 ampoules.
Combien y a-t-il d'ampoules ?

2. J'achète un kimono de judo à 69,55 €.
Combien me rend le vendeur si je lui donne 100 € ?


3. J'achète 7 livres identiques pour un total de 133€.
Combien coûte un livre ?



► Correction

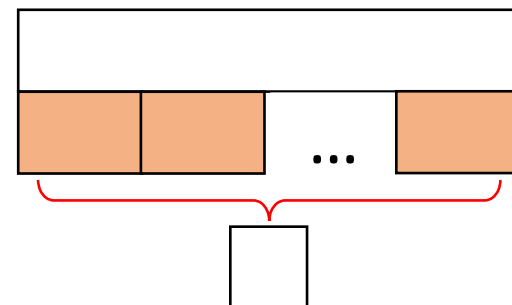
1. J'accroche 4 guirlandes contenant chacune 16 ampoules.
Combien y a-t-il d'ampoules ?

A




2. J'achète un kimono de judo à 69€. **Combien me rend le vendeur si je lui donne 100 € ?**

B




3. Papy range ses 81 timbres dans 9 pochettes. **Combien de timbres y a-t-il dans chaque pochette ?**

C



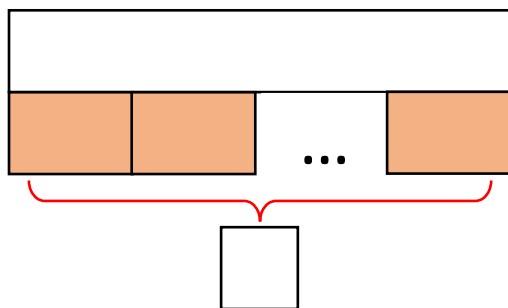
► Correction

A




1. J'accroche 4 guirlandes contenant chacune 36 ampoules.
Combien y a-t-il d'ampoules ?

B



2. J'achète un kimono de judo à 69,55 €. **Combien me rend le vendeur si je lui donne 100 € ?**

C

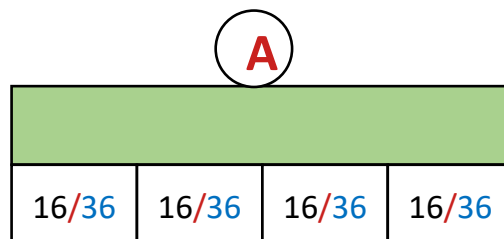


3. J'achète 7 livres identiques pour un total de 133€.
Combien coute un livre?

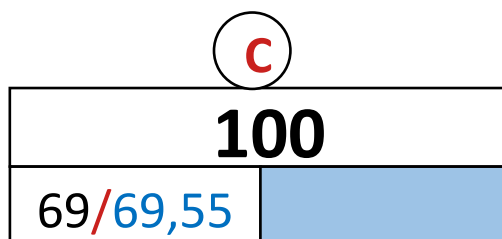
► Correction

CE2

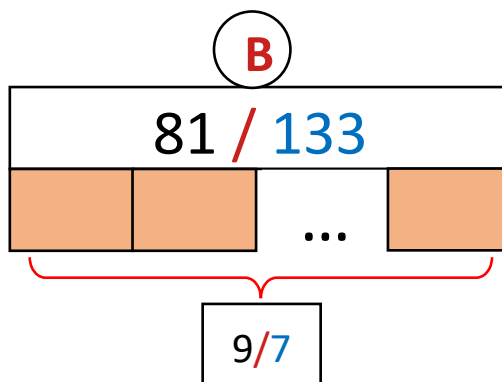
1. J'accroche 4 guirlandes contenant chacune 16 ampoules.
Combien y a-t-il d'ampoules ?



2. J'achète un kimono de judo à 69€.
Combien me rend le vendeur si je lui donne 100 € ?



3. Papy range ses 81 timbres dans 9 pochettes.
Combien de timbres y a-t-il dans chaque pochette ?



CM1

1. J'accroche 4 guirlandes contenant chacune 36 ampoules.
Combien y a-t-il d'ampoules ?

2. J'achète un kimono de judo à 69,55 €.
Combien me rend le vendeur si je lui donne 100 € ?

3. J'achète 7 livres identiques pour un total de 133€.
Combien coûte un livre?